

# 2 なぞときクイズ




1~10のカードを、とことこちゃんと、どらごんちゃんに5まいずつくばったよ。  
ヒントから、ふたりがどのカードをもっているか、すべて当ててね。



とことこちゃん

1	2	3	4	5
6	7	8	9	10





どらごんちゃん

## ヒント

- どらごんちゃんのカードをすべてたすと、32になるよ。
- ふたりとも、大きい数から小さい数をひくと、8になるよ。
- とことこちゃんは、奇数のカードを3まい持っているよ。
- 3のカードは、とことこちゃんがもっているよ。

## こたえ

 とことこちゃん のカード	→	1	3	4	6	9
 どらごんちゃん のカード	→	2	5	7	8	10