











15 なぞときクイズ



みんなでサイコロを、2個同時にふったよ。それぞれが出した目の数を当ててね。

※サイコロの目は1～6

ヒント

-  とことこ 「ふたつとも同じ目が出たのは、ぼくだけだね」
-  どらごん 「ぼくは、ひとつのサイコロの目だけ、おうさまと同じだよ」
-  おうさま 「みんな、ふたつの目をたしてみよう。どうなるかな？」
-  どらごん 「10になったよ。みんなの数より、大きいね」
-  とことこ 「ぼくとおうさまは、同じ数だ。ねこちゃんは、ちょっとちがう」
-  ねこ 「2番目に大きいのは、わたしね。でも、ふたつの目をかけて出てきた数は、いちばん小さいな」
-  おうさま 「では、大きいほうの数から、小さいほうの数をひいたらどうなる？」
-  ねこ 「出てきた数が、いちばん大きいのは、わたしね」
-  どらごん 「ぼくとおうさまは、同じ数になるね」
-  とことこ 「ぼくは0」

こたえ ※数字の順番は、逆でもせいはいです

	出した目の数
 とことこ	3 と 3
 どらごん	4 と 6
 おうさま	2 と 4
 ねこ	1 と 6

かいせつ どらごん→ことなる目の組みあわせて、たして10になるのは「4」と「6」だけ。おうさま→目のひとつがどらごんと同じで、ふたつをひいた数も同じなので、「2」と「4」。とことこ→ふたつとも同じ目で、たした数がおうさまと同じなので、「3」と「3」。ねこ→ふたつの目をたして2番目に大きく、かけていちばん小さい組み合わせは、「1」と「6」だけ。