











15 なぞときクイズ







みんなでサイコロを、2個同時にふったよ。それぞれが出した目の数を当ててね。

※サイコロの目は1～6

ヒント

-  とことこ 「ふたつとも同じ目が出たのは、ぼくだけだね」
-  だらごん 「ぼくは、ひとつのサイコロの目だけ、おうさまと同じだよ」
-  おうさま 「みんな、ふたつの目をたしてみよう。どうなるかな？」
-  だらごん 「10になったよ。みんなの数より、大きいね」
-  とことこ 「ぼくとおうさまは、同じ数だ。ねこちゃんは、ちょっとちがう」
-  ねこ 「2番目に大きいのは、わたしね。でも、ふたつの目をかけて出てきた数は、いちばん小さいな」
-  おうさま 「では、大きいほうの数から、小さいほうの数をひいたらどうなる？」
-  ねこ 「出てきた数が、いちばん大きいのは、わたしね」
-  だらごん 「ぼくとおうさまは、同じ数になるね」
-  とことこ 「ぼくは0」

こたえ

	出した目の数
 とことこ	と
 だらごん	と
 おうさま	と
 ねこ	と

